

**Проверочная работа  
по предмету «ОКРУЖАЮЩИЙ МИР»**

**4 КЛАСС**

Дата: \_\_\_\_ \_\_\_\_ 20\_\_ г.

Вариант №: \_\_\_\_

Выполнена: ФИО \_\_\_\_\_

**Инструкция по выполнению работы**

На выполнение проверочной работы по предмету «Окружающий мир» отводится один урок (не более 45 минут). Работа включает в себя 10 заданий.

Ответы на задания запиши в поля ответов в тексте работы. Если ты хочешь изменить ответ, то зачеркни его и запиши рядом новый.

При выполнении работы не разрешается пользоваться учебниками, рабочими тетрадями, справочным материалом.

При необходимости можно пользоваться черновиком. Записи в черновике проверяться и оцениваться не будут.

Советуем выполнять задания в том порядке, в котором они даны. Для экономии времени пропускай задание, которое не удаётся выполнить сразу, и переходи к следующему. Постарайся выполнить как можно больше заданий.

Вариант сгенерирован единой системой универсального образования на [esuo.ru](http://esuo.ru) и соответствует последним изменениям ВПР на **текущий учебный год**.

*Желаем успеха!*

Таблица для внесения баллов участника


Номер задания	1	2	3.1	3.2	3.3	4	5	6.1	6.2	6.3	7.1	7.2	8 K1	8 K2	8 K3	9 K1	9 K2	9 K3
Баллы																		

10.1	10.2 K1	10.2 K2	10.2 K3	Сумма баллов	Отметка за работу

**\* Обратите внимание:** в случае, если какие-либо задания не могли быть выполнены целым классом по причинам, связанным с особенностями организации учебного процесса, в форме сбора результатов ВПР всем обучающимся класса за данные задания вместо баллов выставляется значение «Тема не пройдена». В соответствующие ячейки таблицы заполняется н/п.

1

Рассмотри рисунок, на котором изображена клумба. Ограждение клумбы изготовлено из металла. Оно отмечено на рисунке стрелкой с соответствующей надписью. Покажи на рисунке стрелкой любой предмет (любую деталь) из дерева и любой предмет (любую деталь) из камня. Подпиши название соответствующего материала рядом с каждой стрелкой.



2

На интернет-сайтах погоды можно встретить подобные таблицы. Изучи прогноз погоды на трое суток.

	Понедельник, 20 июля				Вторник, 21 июля				Среда, 22 июля			
	Ночь	Утро	День	Вечер	Ночь	Утро	День	Вечер	Ночь	Утро	День	Вечер
Облачность и атмосферные осадки												
Температура воздуха, °C	26	27	28	27	26	28	28	27	26	27	29	29
Направление ветра												
	В	В	СВ	СВ	В	В	В	В	СВ	В	В	В
Влажность воздуха, %	78	70	60	68	76	72	67	78	74	67	58	65

Выбери все верные утверждения об ожидаемой погоде на эти трое суток и запиши в строку ответа их номера.

- 1) Влажность воздуха в течение всех трёх суток будет колебаться в пределах от 60% до 70%.
- 2) Во вторник в течение суток ожидается дождь.
- 3) В среду будет преобладать восточный ветер.
- 4) В понедельник температура воздуха будет ниже 26 °C.

Ответ: \_\_\_\_\_

3

Рассмотри карту России. На ней буквами А и Б отмечены две природные зоны.



3.1. Запиши название каждой природной зоны в отведённое для этого поле.

Название природной зоны А: \_\_\_\_\_

Название природной зоны Б: \_\_\_\_\_

3.2. На следующей странице представлены фотографии песка, карликовой берёзы, сосны и бобра. Запиши название каждого из этих животных и растений рядом с номером фотографии, на которой оно изображено.

- |          |          |
|----------|----------|
| 1) _____ | 2) _____ |
| 3) _____ | 4) _____ |

3.3. Какие из этих животных обитают и какие растения произрастают в естественной среде (не в зоопарке и не в ботаническом саду) на территории природной зоны А, а какие – природной зоны Б? Запиши номера фотографий с изображением этих животных и растений в таблицу под соответствующими буквами.




1)



2)



3)



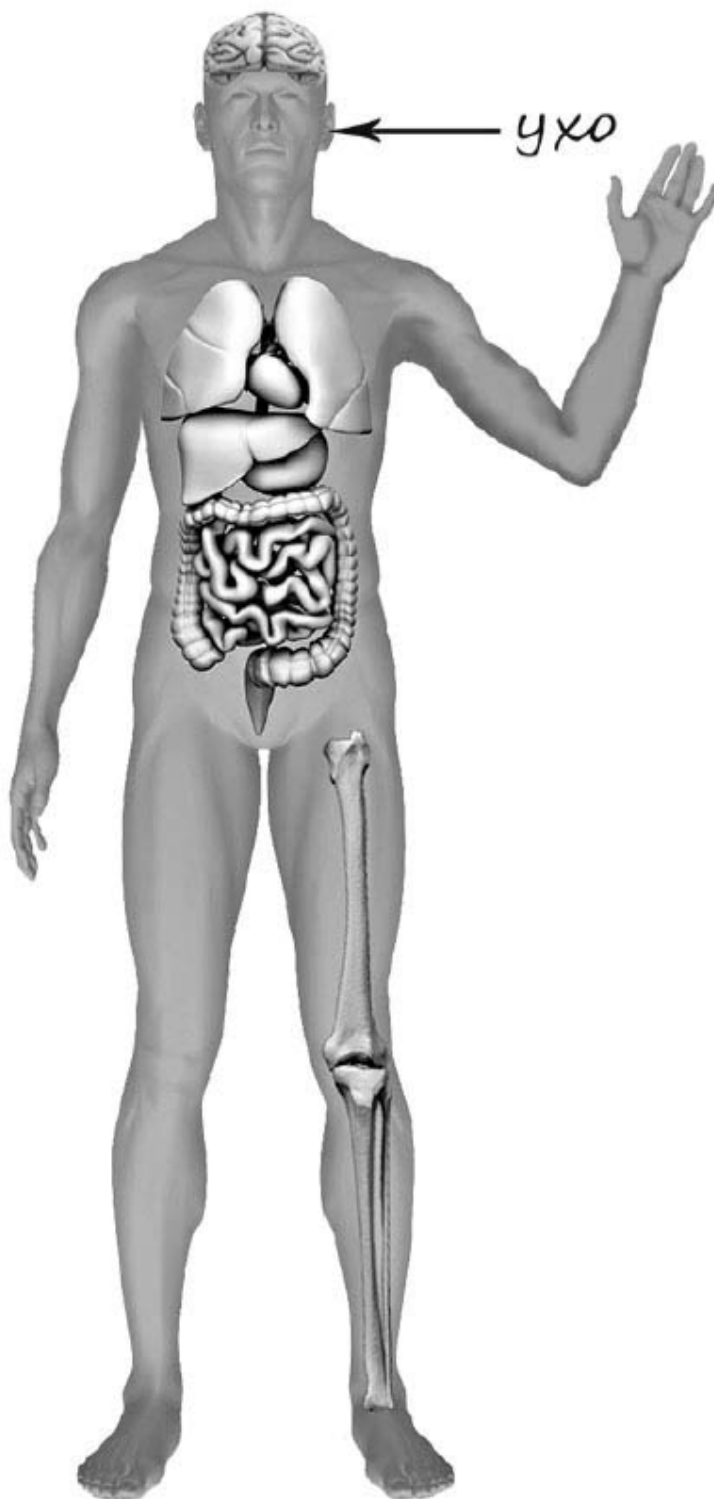
4)

Ответ:

Природная зона	А	Б
Животные		

4

Рассмотри изображение человека. Покажи стрелками и подпиши *запястье, предплечье* и *кишечник* человека так, как показано на примере.



**5**

Если правильно подобрать к началу каждой фразы из первого столбца продолжение фразы из второго столбца, то получится правило, помогающее человеку сохранить здоровье и жизнь. Составь два правила из приведённых частей фраз: для этого к каждой позиции первого столбца подбери соответствующую позицию из второго столбца.

**Начало фразы**

А) Чтобы избежать отравления,

Б) Чтобы не обморозить руки, находясь на улице в сильный мороз,

**Продолжение фразы**

1) надень варежки или перчатки.

2) не принимай лекарства без назначения врача.

3) надень тёплую шапку.

Запиши в таблицу выбранные цифры под соответствующими буквами.

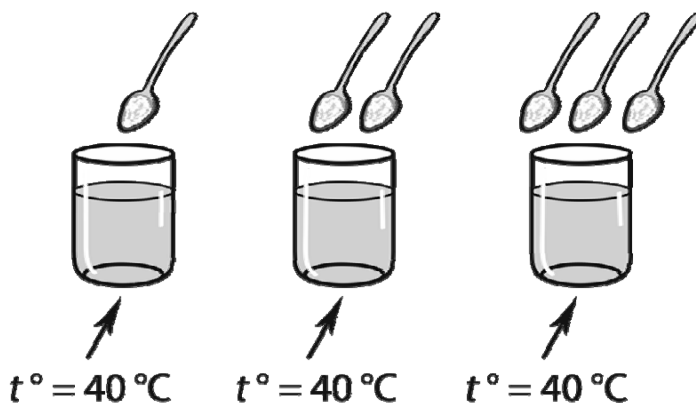
Ответ:

Начало фразы	А	Б
Продолжение фразы		



6

Катя проводила опыт с растворимостью соли в воде. Чтобы выяснить, влияет ли количество соли на скорость её растворения, она взяла три прозрачных стакана объёмом по 200 мл каждый и наполнила их водой температурой 40 °С. В первый стакан она насыпала одну чайную ложку соли; во второй – две чайные ложки, а в третий – три чайные ложки. Все стаканы она оставила на столе и стала наблюдать за растворением в них соли.



6.1. Сравни условия растворения соли в стаканах в описанном эксперименте. Подчеркни в каждой строке одно из выделенных слов.

Температура воды в стаканах: **одинаковая** / **различная**

Количество соли в стаканах: **одинаковое** / **различное**

6.2. Какие измерения и сравнения нужно провести Кате, чтобы определить, как количество соли влияет на скорость её растворения?

Ответ: \_\_\_\_\_

\_\_\_\_\_

6.3. Если бы Катя захотела выяснить, влияет ли количество воды в стакане на скорость растворения соли, с помощью какого эксперимента она могла бы это сделать? Опиши этот эксперимент.

Ответ: \_\_\_\_\_

\_\_\_\_\_

\_\_\_\_\_

\_\_\_\_\_

\_\_\_\_\_

\_\_\_\_\_



*При выполнении заданий 7–10 последовательно отвечай на каждый из представленных вопросов. Ответы записывай чётко и разборчиво, соблюдая нормы речи.*

7

Рассмотри знаки, изображённые на рисунках, и ответь на вопросы.



7.1. Какой из этих знаков можно встретить в заповеднике?

Ответ: \_\_\_\_

Какое правило отражает этот знак?

Ответ: \_\_\_\_\_  
\_\_\_\_\_

7.2. Какие правила отражают два других знака? Запиши ответы в таблицу.

ЗНАК	ПРАВИЛО

8

На фотографиях изображены люди разных профессий. Выбери ОДНУ из фотографий и запиши букву, под которой она приведена. Представитель какой профессии изображён на выбранной фотографии? Какую работу выполняют люди этой профессии? Чем работа людей этой профессии полезна обществу?

А)



Б)



В)



Выбранная фотография: \_\_\_\_

Ответ: \_\_\_\_\_  
\_\_\_\_\_  
\_\_\_\_\_  
\_\_\_\_\_  
\_\_\_\_\_

6 июня в нашей стране отмечают Пушкинский день России.

## 2018

Январь						
ПН	ВТ	СР	ЧТ	ПТ	СБ	ВС
1	2	3	4	5	6	7
8	9	10	11	12	13	14
15	16	17	18	19	20	21
22	23	24	25	26	27	28
29	30	31				

Февраль						
ПН	ВТ	СР	ЧТ	ПТ	СБ	ВС
			1	2	3	4
5	6	7	8	9	10	11
12	13	14	15	16	17	18
19	20	21	22	23	24	25
26	27	28				

Март						
ПН	ВТ	СР	ЧТ	ПТ	СБ	ВС
			1	2	3	4
5	6	7	8	9	10	11
12	13	14	15	16	17	18
19	20	21	22	23	24	25
26	27	28	29	30	31	

Апрель						
ПН	ВТ	СР	ЧТ	ПТ	СБ	ВС
						1
2	3	4	5	6	7	8
9	10	11	12	13	14	15
16	17	18	19	20	21	22
23	24	25	26	27	28	29
30						

Май						
ПН	ВТ	СР	ЧТ	ПТ	СБ	ВС
	1	2	3	4	5	6
7	8	9	10	11	12	13
14	15	16	17	18	19	20
21	22	23	24	25	26	27
28	29	30	31			

Июнь						
ПН	ВТ	СР	ЧТ	ПТ	СБ	ВС
				1	2	3
4	5	6	7	8	9	10
11	12	13	14	15	16	17
18	19	20	21	22	23	24
25	26	27	28	29	30	

Июль						
ПН	ВТ	СР	ЧТ	ПТ	СБ	ВС
						1
2	3	4	5	6	7	8
9	10	11	12	13	14	15
16	17	18	19	20	21	22
23	24	25	26	27	28	29
30	31					

Август						
ПН	ВТ	СР	ЧТ	ПТ	СБ	ВС
			1	2	3	4
5	6	7	8	9	10	11
12	13	14	15	16	17	18
19	20	21	22	23	24	25
26	27	28	29	30	31	

Сентябрь						
ПН	ВТ	СР	ЧТ	ПТ	СБ	ВС
					1	2
3	4	5	6	7	8	9
10	11	12	13	14	15	16
17	18	19	20	21	22	23
24	25	26	27	28	29	30

Октябрь						
ПН	ВТ	СР	ЧТ	ПТ	СБ	ВС
1	2	3	4	5	6	7
8	9	10	11	12	13	14
15	16	17	18	19	20	21
22	23	24	25	26	27	28
29	30	31				

Ноябрь						
ПН	ВТ	СР	ЧТ	ПТ	СБ	ВС
			1	2	3	4
5	6	7	8	9	10	11
12	13	14	15	16	17	18
19	20	21	22	23	24	25
26	27	28	29	30		

Декабрь						
ПН	ВТ	СР	ЧТ	ПТ	СБ	ВС
					1	2
3	4	5	6	7	8	9
10	11	12	13	14	15	16
17	18	19	20	21	22	23
24	25	26	27	28	29	30
31						

Обведи эту дату в календаре.

Запиши, на какой день недели приходилась эта дата в 2018 году.

Ответ: \_\_\_\_\_

С чем связана эта дата? Почему этот день важен для всех жителей России? (Напиши ответ объёмом до пяти предложений.)

Ответ: \_\_\_\_\_

\_\_\_\_\_

\_\_\_\_\_

\_\_\_\_\_

\_\_\_\_\_

\_\_\_\_\_

\_\_\_\_\_

**10**

10.1. Запиши название региона: республики, или области, или края, или автономного округа, в котором ты живёшь.

Ответ: \_\_\_\_\_

Как называется главный город твоего региона?

Ответ: \_\_\_\_\_

10.2. Что изображено на гербе твоего региона?

Ответ: \_\_\_\_\_

\_\_\_\_\_

Какие звери встречаются в природе твоего региона (укажи не менее трёх зверей)?  
Опиши одного из этих зверей. Чем питается этот зверь?

Ответ: \_\_\_\_\_

\_\_\_\_\_

\_\_\_\_\_

\_\_\_\_\_

\_\_\_\_\_

\_\_\_\_\_

\_\_\_\_\_

\_\_\_\_\_

\_\_\_\_\_

\_\_\_\_\_

\_\_\_\_\_

\_\_\_\_\_