

Основной государственный экзамен по МАТЕМАТИКЕ

Тренировочный вариант № 128

Инструкция по выполнению работы

Экзаменационная работа состоит из двух частей, включающих в себя 25 заданий. Часть 1 содержит 19 заданий, часть 2 содержит 6 заданий с развёрнутым ответом. На выполнение экзаменационной работы по математике отводится 3 часа 55 минут (235 минут).

Ответы к заданиям 7 и 13 запишите в бланк ответов № 1 в виде одной цифры, которая соответствует номеру правильного ответа.

Для остальных заданий части 1 ответом является число или последовательность цифр. Ответ запишите в поле ответа в тексте работы, а затем перенесите в бланк ответов № 1. Если получилась обыкновенная дробь, ответ запишите в виде десятичной. Решения заданий части 2 и ответы к ним запишите на бланке ответов № 2. Задания можно выполнять в любом порядке. Текст задания переписывать не надо, необходимо только указать его номер. Все бланки заполняются яркими чёрными чернилами. Допускается использование гелевой или капиллярной ручки.

Сначала выполняйте задания части 1. Начать советуем с тех заданий, которые вызывают у Вас меньше затруднений, затем переходите к другим заданиям. Для экономии времени пропускайте задание, которое не удаётся выполнить сразу, и переходите к следующему. Если у Вас останется время, Вы сможете вернуться к пропущенным заданиям. При выполнении части 1 все необходимые вычисления, преобразования выполняйте в черновике.

Если задание содержит рисунок, то на нём непосредственно в тексте работы можно выполнять необходимые Вам построения. Рекомендуем внимательно читать условие и проводить проверку полученного ответа. При выполнении работы Вы можете воспользоваться справочными материалами, выданными вместе с вариантом КИМ, и линейкой. Баллы, полученные Вами за выполненные задания, суммируются. Постарайтесь выполнить как можно больше заданий и набрать наибольшее количество баллов.

При выполнении работы Вы можете воспользоваться справочными материалами, выданными вместе с вариантом КИМ, линейкой и непрограммируемым калькулятором.

Для прохождения аттестационного порога необходимо набрать не менее 8 баллов, из которых не менее 2 баллов должны быть получены за решение заданий по геометрии (задания 15–19, 23–25).

После завершения работы проверьте, чтобы ответ на каждое задание в бланках ответов № 1 и № 2 был записан под правильным номером.

Желаем успеха!

Часть 1

Прочитайте внимательно текст и выполните задание 1-5.

Хозяин дачного участка строит баню с парным отделением. Размеры парного отделения: длина 3,9 м, ширина 2,1 м, высота 2 м. Для разогрева парного помещения можно использовать электрическую или дровяную печь. Три возможных варианта даны в таблице.

Печь	Тип	Отапливаемый объём, куб. м	Масса, кг	Цена, руб.
А	дровяная	9–14	42	19 100
Б	дровяная	12–18	49	20 500
В	электрическая	10–17	16	16 000

Для установки дровяной печи дополнительных затрат не потребуется. Установка электрической печи потребует подведение специального кабеля, что обойдётся в 6200 руб. Кроме того, хозяин подсчитал, что за год электрическая печь израсходует 2300 киловатт-часов электроэнергии по 3,5 руб. за 1 киловатт-час, а дровяная печь за год израсходует 1,6 куб. м дров, которые обойдутся по 1700 руб. за 1 куб. м.

1. Найдите объём парного отделения строящейся бани (в куб. м).

Ответ: _____

2. На сколько рублей дровяная печь, подходящая по отапливаемому объёму парного отделения, обойдётся дешевле электрической с учётом установки?

Ответ: _____

3. На сколько рублей эксплуатация дровяной печи, которая подходит по отапливаемому объёму парного отделения, обойдётся дешевле эксплуатации электрической в течение года?

Ответ: _____

4. Доставка печи из магазина до участка стоит 700 рублей. При покупке печи ценой выше 19000 рублей магазин предлагает скидку 5% на товар и 20% на доставку. Сколько будет стоить покупка печи Б вместе с доставкой на этих условиях.

Ответ: _____

5. Хозяин выбрал дровяную печь. Чертёж печи показан на рис. 1. Размеры указаны в см.

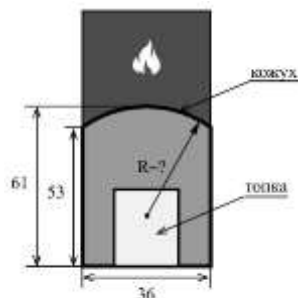


Рис. 1

Печь снабжена кожухом вокруг дверцы топki. Верхняя часть кожуха выполнена в виде арки, приваренной к передней стенке по дуге окружности (см. рис. 1). Для установки печки хозяину понадобилось узнать радиус закругления арки R. Размеры кожуха показаны на рисунке. Найдите радиус в сантиметрах.

Ответ: _____

6. Найдите значение выражения $\frac{6,9 - 1,5}{2,4}$

Ответ: _____

7. Какое из следующих чисел заключено между числами $\frac{8}{3}$ и $\frac{11}{4}$?

1) 2,7 2) 2,8 3) 2,9 4) 3

Ответ: _____

8. Найдите значение выражения $\frac{1}{3 + \sqrt{7}} \cdot \frac{1}{3 - \sqrt{7}}$

Ответ: _____

9. При каких значениях x значения выражений $2x - 4$ и $6x + 8$ равны?

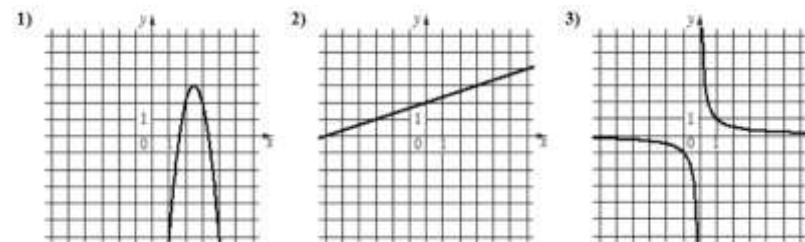
Ответ: _____

10. В фирме такси в данный момент свободно 30 машин: 6 чёрных, 3 жёлтых и 21 зелёная. По вызову выехала одна из машин, случайно оказавшаяся ближе всего к заказчику. Найдите вероятность того, что к нему приедет жёлтое такси.

Ответ: _____

11. Установите соответствие между графиками функций и формулами, которые их задают.

ГРАФИКИ



ФОРМУЛЫ

- 1) $y = \frac{1}{x}$ 2) $y = \frac{1}{3}x + 2$ 3) $y = -4x^2 + 20x - 22$

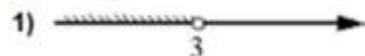
В таблице под каждой буквой укажите соответствующий номер

А	Б	В

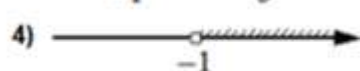
12. Радиус описанной около треугольника окружности можно найти по формуле $R = \frac{a}{2\sin \alpha}$, где a — сторона треугольника, α — противолежащий этой стороне угол. Пользуясь этой формулой, найдите $\sin \alpha$, если $a = 0,6$, а $R = 0,75$.

Ответ: _____

13. Укажите решение системы неравенств:
$$\begin{cases} x > -1 \\ 3 - x > 0 \end{cases}$$



3) нет решений



Ответ: _____

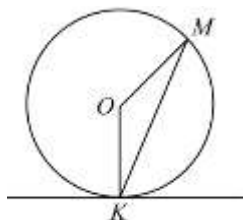
14. Маша решила начать делать зарядку каждое утро. В первый день она сделала 30 приседаний, а в каждый следующий день она делала на одно и то же количество приседаний больше, чем в предыдущий день. За 15 дней она сделала всего 975 приседаний. Сколько приседаний сделала Маша на пятый день?

Ответ: _____

15. В треугольнике ABC проведены медиана BM и высота BH . Известно, что $AC = 40$ и $BC = BM$. Найдите AH .

Ответ: _____

16. Прямая касается окружности в точке K . Точка O — центр окружности. Хорда KM образует с касательной угол, равный 72° . Найдите величину угла OMK . Ответ дайте в градусах.

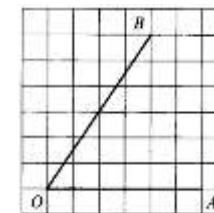


Ответ: _____

17. Периметр треугольника равен 14, одна из сторон равна 4, а радиус вписанной в него окружности равен 1. Найдите площадь этого треугольника.

Ответ: _____

18. Найдите тангенс угла AOB , изображенного на рисунке



Ответ: _____

19. Какие из следующих утверждений **верны**?

- 1) Биссектриса треугольника делит пополам сторону, к которой проведена.
- 2) Если два угла одного треугольника равны двум углам другого треугольника, то такие треугольники подобны.
- 3) Центры вписанной и описанной окружностей равностороннего треугольника совпадают.

Ответ: _____

Не забудьте перенести в бланк ответов №1 в соответствии с инструкцией по выполнению работы

Часть 2

Для выполнения задания 20-25 используйте БЛАНК ОТВЕТОВ №2. Сначала укажите номер задания, а затем запишите его решение и ответ. Пишите чётко и разборчиво

Модуль «Алгебра»

20. Сократите дробь $\frac{8 \cdot 100^n}{2^{2n+1} \cdot 5^{2n-2}}$

21. Два бегуна одновременно стартовали в одном направлении из одного и того же места круговой трассы в беге на несколько кругов. Спустя один час, когда одному из них оставалось 1 км до окончания первого круга, ему сообщили, что второй бегун прошёл первый круг 15 минут назад. Найдите скорость первого бегуна, если известно, что она на 5 км/ч меньше скорости второго.

22. Постройте график функции

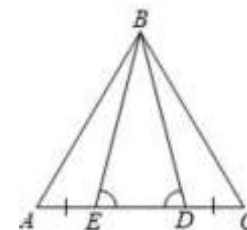
$$y = \frac{|x| - 1}{|x| - x^2}$$

и определите, при каких значениях k прямая $y = kx$ не имеет с графиком ни одной общей точки.

Модуль «Геометрия»

23. Периметр прямоугольника равен 30, а диагональ равна 14. Найдите площадь этого прямоугольника.

24. На стороне AC треугольника ABC выбраны точки D и E так, что углы ADB и BEC равны (см. рисунок). Оказалось, что отрезки AE и CD тоже равны. Докажите, что треугольник ABC — равнобедренный.



25. В равнобедренной трапеции $ABCD$ боковые стороны равны меньшему основанию BC . К диагоналям трапеции провели перпендикуляры BH и CE . Найдите площадь четырёхугольника $BCEH$, если площадь трапеции $ABCD$ равна 100.

ОТВЕТЫ К ТРЕНИРОВОЧНОМУ ВАРИАНТУ 128

1	16,38
2	1700
3	5330
4	20035
5	24,25
6	2,25
7	1
8	0,5
9	-3
10	0,1
11	321
12	0,4
13	2
14	50
15	30
16	18
17	7
18	1,5
19	23

20	100.	
21	11.	
22	-1; 0; 1.	
23	14,5.	
24		
25	25.	