

Единый государственный экзамен
по МАТЕМАТИКЕ

Базовый уровень

Инструкция по выполнению работы

Экзаменационная работа включает в себя 21 задание.

На выполнение работы отводится 3 часа (180 минут).

Ответы к заданиям записываются по приведённым ниже образцам в виде числа или последовательности цифр. Сначала запишите ответы к заданиям в поле ответа в тексте работы, а затем перенесите их в бланк ответов № 1 справа от номера соответствующего задания.

КИМ Ответ: -0,8

0	1	2	3	4	5	6	7	8	9
0	1	2	3	4	5	6	7	8	9

 Бланк

Если ответом является последовательность цифр, как в приведённом ниже примере, то запишите эту последовательность в бланк ответов № 1 без пробелов, запятых и других дополнительных символов.

КИМ Ответ:

А	Б	В	Г
4	3	1	2

0	1	2	3	4	5	6	7	8	9
9	4	3	1	2					

 Бланк

Все бланки ЕГЭ заполняются яркими чёрными чернилами. Допускается использование гелевой или капиллярной ручки.

При выполнении заданий можно пользоваться черновиком. **Записи в черновике, а также в тексте контрольных измерительных материалов не учитываются при оценивании работы.**

Баллы, полученные Вами за выполненные задания, суммируются. Постарайтесь выполнить как можно больше заданий и набрать наибольшее количество баллов.

После завершения работы проверьте, что ответ на каждое задание в бланках ответов №1 был записан под правильным номером.

Желаем успеха!

Справочные материалы

Алгебра

Таблица квадратов целых чисел от 0 до 99

Десятки	Единицы									
	0	1	2	3	4	5	6	7	8	9
0	0	1	4	9	16	25	36	49	64	81
1	100	121	144	169	196	225	256	289	324	361
2	400	441	484	529	576	625	676	729	784	841
3	900	961	1024	1089	1156	1225	1296	1369	1444	1521
4	1600	1681	1764	1849	1936	2025	2116	2209	2304	2401
5	2500	2601	2704	2809	2916	3025	3136	3249	3364	3481
6	3600	3721	3844	3969	4096	4225	4356	4489	4624	4761
7	4900	5041	5184	5329	5476	5625	5776	5929	6084	6241
8	6400	6561	6724	6889	7056	7225	7396	7569	7744	7921
9	8100	8281	8464	8649	8836	9025	9216	9409	9604	9801

Свойства арифметического квадратного корня

$$\sqrt{ab} = \sqrt{a} \cdot \sqrt{b} \text{ при } a \geq 0, b \geq 0 \quad \sqrt{\frac{a}{b}} = \frac{\sqrt{a}}{\sqrt{b}} \text{ при } a \geq 0, b > 0$$

Корни квадратного уравнения $ax^2 + bx + c = 0, a \neq 0$

$$x_1 = \frac{-b - \sqrt{b^2 - 4ac}}{2a}, \quad x_2 = \frac{-b + \sqrt{b^2 - 4ac}}{2a} \text{ при } b^2 - 4ac > 0$$

$$x = -\frac{b}{2a} \text{ при } b^2 - 4ac = 0$$

Формулы сокращенного умножения

$$(a + b)^2 = a^2 + 2ab + b^2$$

$$(a - b)^2 = a^2 - 2ab + b^2$$

$$a^2 - b^2 = (a + b)(a - b)$$



Степень и логарифм

Свойства степени при $a > 0, b > 0$

$$a^{-n} = \frac{1}{a^n}$$

$$a^n \cdot a^m = a^{n+m}$$

$$\frac{a^n}{a^m} = a^{n-m}$$

$$(a^n)^m = a^{nm}$$

$$(ab)^n = a^n \cdot b^n$$

$$\left(\frac{a}{b}\right)^n = \frac{a^n}{b^n}$$

Свойства логарифма при $a > 0, a \neq 1, b > 0, x > 0, y > 0$

$$a^{\log_a b} = b$$

$$\log_a a = 1$$

$$\log_a 1 = 0$$

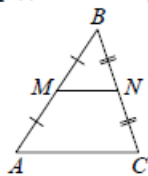
$$\log_a(xy) = \log_a x + \log_a y$$

$$\log_a\left(\frac{x}{y}\right) = \log_a x - \log_a y$$

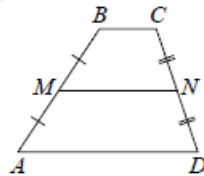
$$\log_a b^k = k \log_a b$$

Геометрия

Средняя линия треугольника и трапеции

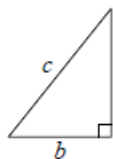


MN — ср. лин.
 $MN \parallel AC$
 $MN = \frac{AC}{2}$



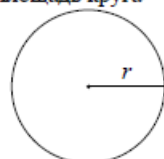
$BC \parallel AD$
 MN — ср. лин.
 $MN \parallel AD$
 $MN = \frac{BC + AD}{2}$

Теорема Пифагора



$$a^2 + b^2 = c^2$$

Длина окружности
Площадь круга

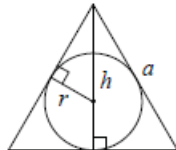


$C = 2\pi r$
 $S = \pi r^2$

Правильный треугольник



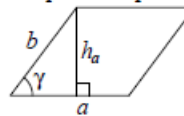
$R = \frac{a\sqrt{3}}{3}$
 $S = \frac{a^2\sqrt{3}}{4}$



$r = \frac{a\sqrt{3}}{6}$
 $h = \frac{a\sqrt{3}}{2}$

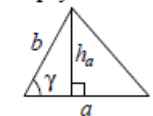
Площади фигур

Параллелограмм



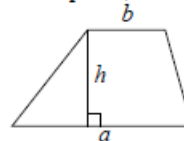
$S = ah_a$
 $S = ab \sin \gamma$

Треугольник



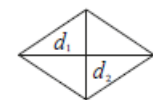
$S = \frac{1}{2} ah_a$
 $S = \frac{1}{2} ab \sin \gamma$

Трапеция



$S = \frac{a+b}{2} \cdot h$

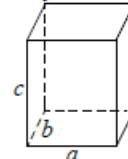
Ромб



d_1, d_2 — диагонали
 $S = \frac{1}{2} d_1 d_2$

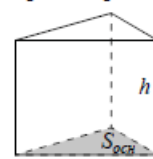
Площади поверхностей и объёмы тел

Прямоугольный параллелепипед



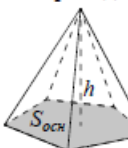
$V = abc$

Прямая призма



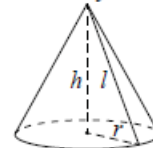
$V = S_{осн} h$

Пирамида



$V = \frac{1}{3} S_{осн} h$

Конус



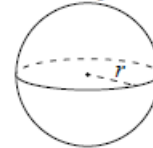
$V = \frac{1}{3} \pi r^2 h$
 $S_{бок} = \pi r l$

Цилиндр



$V = \pi r^2 h$
 $S_{бок} = 2\pi r h$

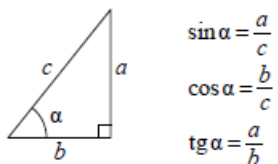
Шар



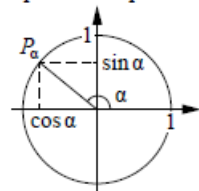
$V = \frac{4}{3} \pi r^3$
 $S = 4\pi r^2$

Тригонометрические функции

Прямоугольный треугольник



Тригонометрическая окружность



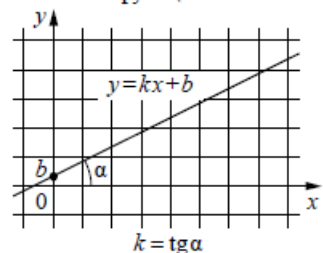
Основное тригонометрическое тождество: $\sin^2 \alpha + \cos^2 \alpha = 1$

Некоторые значения тригонометрических функций

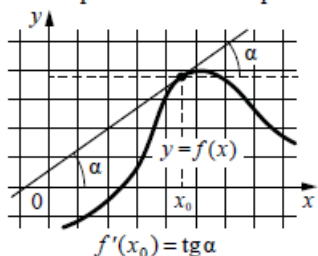
α	радианы	0	$\frac{\pi}{6}$	$\frac{\pi}{4}$	$\frac{\pi}{3}$	$\frac{\pi}{2}$	π	$\frac{3\pi}{2}$	2π
	градусы	0°	30°	45°	60°	90°	180°	270°	360°
$\sin \alpha$		0	$\frac{1}{2}$	$\frac{\sqrt{2}}{2}$	$\frac{\sqrt{3}}{2}$	1	0	-1	0
$\cos \alpha$		1	$\frac{\sqrt{3}}{2}$	$\frac{\sqrt{2}}{2}$	$\frac{1}{2}$	0	-1	0	1
$\operatorname{tg} \alpha$		0	$\frac{\sqrt{3}}{3}$	1	$\sqrt{3}$	—	0	—	0

Функции

Линейная функция



Геометрический смысл производной



Ответом к каждому заданию является конечная десятичная дробь, или целое число, или последовательность цифр. Ответ сначала запишите в поле ответа в тексте работы, а затем перенесите в БЛАНК ОТВЕТОВ № 1 справа от номера соответствующего задания. Каждую цифру, знак «минус» и запятую пишите в отдельной клеточке в соответствии с приведёнными в бланке образцами. Единицы измерений писать не нужно.

1 На автозаправке клиент отдал кассиру 1000 рублей и залил в бак 26 литров бензина. Цена бензина 34 рубля за литр. Сколько рублей сдачи должен получить клиент?

Ответ: _____.

2 Установите соответствие между величинами и их возможными значениями: к каждому элементу первого столбца подберите соответствующий элемент из второго столбца.

ВЕЛИЧИНЫ

- А) площадь трёхкомнатной квартиры
- Б) площадь футбольного поля
- В) площадь территории России
- Г) площадь купюры достоинством 100 рублей

ЗНАЧЕНИЯ

- 1) 0,7 га
- 2) 100 кв. м
- 3) 97,5 кв. см
- 4) 17,1 млн кв. км

В таблице под каждой буквой, соответствующей величине, укажите номер её возможного значения.

Ответ:

А	Б	В	Г



3 На игре КВН судьи поставили следующие оценки командам за конкурсы:

Команда	Баллы за конкурс «Приветствие»	Баллы за конкурс «СТЭМ»	Баллы за музыкальный конкурс
«АТОМ»	30	21	26
«Шумы»	27	24	24
«Топчан»	28	23	25
«Лёлек и Болек»	30	22	27

Для каждой команды баллы по всем конкурсам суммируются, победителем считается команда, набравшая в сумме наибольшее количество баллов. Какое место заняла команда «АТОМ»?

Ответ: _____.

4 Радиус окружности, описанной около треугольника, можно вычислить по формуле $R = \frac{a}{2 \sin \alpha}$, где a – сторона, а α – противолежащий ей угол треугольника. Пользуясь этой формулой, найдите R , если $a = 10$ и $\sin \alpha = \frac{1}{3}$.

Ответ: _____.

5 В группе туристов 8 человек. С помощью жребия они выбирают двух человек, которые должны идти в село в магазин за продуктами. Какова вероятность того, что турист Д., входящий в состав группы, пойдёт в магазин?

Ответ: _____.

6 В городском парке имеется пять аттракционов: карусель, колесо обозрения, автодром, «Ромашка» и «Весёлый тир». В кассах продаётся шесть видов билетов, каждый из которых позволяет посетить один или два аттракциона. Сведения о стоимости билетов представлены в таблице.

Номер билета	Набор аттракционов	Стоимость (руб.)
1	«Весёлый тир», автодром	300
2	Колесо обозрения, «Весёлый тир»	400
3	Автодром, «Ромашка»	400
4	Колесо обозрения	150
5	Карусель, «Ромашка»	300
6	Карусель, колесо обозрения	350

Какие билеты должен купить Андрей, чтобы посетить все пять аттракционов и затратить не более 750 рублей?

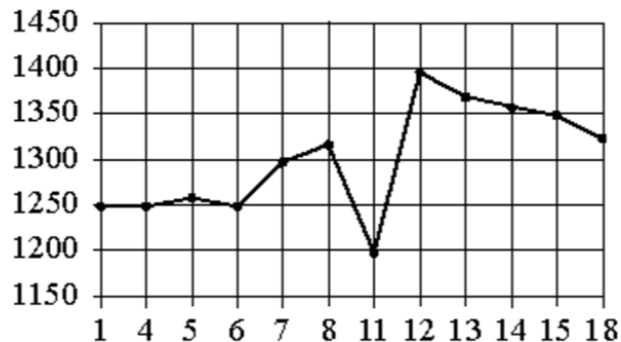
В ответе укажите какой-нибудь один набор номеров билетов без пробелов, запятых и других дополнительных символов.

Ответ: _____.



7

На рисунке показано изменение цены акций компании на момент закрытия биржевых торгов во все рабочие дни в период с 1 по 18 сентября 2012 года. По горизонтали указываются числа месяца, по вертикали – цена акции в рублях за штуку. Для наглядности точки соединены линией.



Пользуясь рисунком, поставьте в соответствие каждому из указанных интервалов времени характеристику изменения цены акций.

ПЕРИОДЫ ВРЕМЕНИ

А) 1-5 сентября

Б) 6-8 сентября

В) 11-13 сентября

Г) 14-18 сентября

ХАРАКТЕРИСТИКИ

1) цена акции не превосходила 1300 рублей за штуку

2) цена достигла максимума за весь период

3) цена акций ежедневно росла

4) цена акции не опускалась ниже 1300 рублей за штуку

В таблице под каждой буквой укажите соответствующий номер.

Ответ:

А	Б	В	Г

8

Если спортсмен, участвующий в олимпийских играх, установил мировой рекорд, то его результат является и олимпийским рекордом. Выберите утверждения, которые верны при приведённом условии.

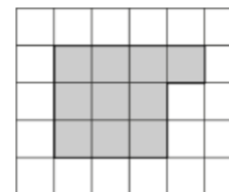
- 1) Если результат спортсмена, участвующего в Олимпийских играх, не является олимпийским рекордом, то он не является и мировым рекордом.
- 2) Если результат спортсмена, участвующего в Олимпийских играх, не является олимпийским рекордом, то он является мировым рекордом.
- 3) Если результат спортсмена, участвующего в Олимпийских играх, является мировым рекордом, то он не является олимпийским рекордом.
- 4) Если спортсмен, участвующий в Олимпийских играх, установил мировой рекорд в беге на 100 м, то его результат является и олимпийским рекордом.

В ответе запишите номера выбранных утверждений без пробелов, запятых и других дополнительных символов.

Ответ: _____.

9

План местности разбит на клетки. Каждая клетка обозначает квадрат 1 м × 1 м. Найдите площадь участка, выделенного на плане. Ответ дайте в квадратных метрах.



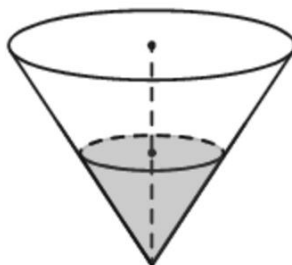
Ответ: _____.

- 10** Квартира состоит из комнаты, кухни, коридора и санузла (см. чертёж). Кухня имеет размеры $3\text{ м} \times 4\text{ м}$, санузел – $1,5\text{ м} \times 2\text{ м}$, длина коридора 6 м . Найдите площадь комнаты (в квадратных метрах).



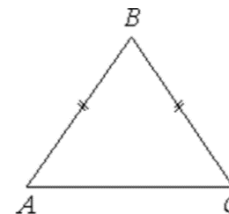
Ответ: _____.

- 11** В сосуде, имеющем форму конуса, уровень жидкости достигает $\frac{1}{2}$ высоты. Объём сосуда 1600 мл . Чему равен объём налитой жидкости? Ответ дайте в миллилитрах.



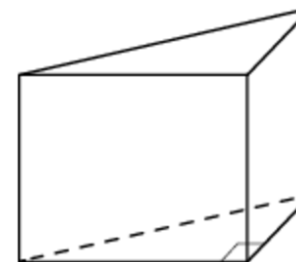
Ответ: _____.

- 12** В треугольнике ABC известно, что $AB = BC$, $AC = 8$, $\text{tg} \angle BAC = \frac{\sqrt{5}}{2}$. Найдите длину стороны AB .



Ответ: _____.

- 13** В основании прямой призмы лежит прямоугольный треугольник, катеты которого равны 3 и 16 . Найдите объём призмы, если её высота равна 3 .



Ответ: _____.

- 14** Найдите значение выражения

$$\frac{5}{4} + \frac{7}{6} \div \frac{2}{3}$$

Ответ: _____.

- 15** Число посетителей сайта увеличилось за месяц вчетверо. На сколько процентов увеличилось число посетителей сайта за этот месяц?

Ответ: _____.



16 Найдите значение выражения

$$(\sqrt{24} - \sqrt{6}) \cdot \sqrt{6}.$$

Ответ: _____.

17 Решите уравнение

$$x^2 + 8 = 6x.$$

Если уравнение имеет более одного корня, в ответе укажите больший из них.

Ответ: _____.

18 Каждому из четырёх неравенств в левом столбце соответствует одно из решений в правом столбце. Установите соответствие между неравенствами и их решениями.

НЕРАВЕНСТВА



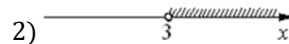

А) $\frac{x-5}{(x-3)^2} < 0$

Б) $5^{-x+1} < \frac{1}{25}$

В) $(x-3)(x-5) > 0$

Г) $\log_2(x-3) < 1$

РЕШЕНИЯ



Впишите в приведённую в ответе таблицу под каждой буквой соответствующую цифру.

Ответ:

А	Б	В	Г

19 Вычеркните в числе 75416303 три цифры так, чтобы получившееся число делилось на 30. В ответе укажите какое-нибудь одно получившееся число.

Ответ: _____.

20 Дорога между пунктами А и В состоит из подъёма и спуска, а её длина равна 25 км. Путь из А в В занял у туриста 6 часов, из которых 1 час ушёл на спуск. Найдите скорость туриста на спуске, если она больше скорости на подъёме на 1 км/ч. Ответ дайте в км/ч.

Ответ: _____.

21 Прямоугольник разбит на четыре меньших прямоугольника двумя параллельными разрезами. Площади трёх из них, начиная с левого верхнего и далее по часовой стрелке, равны 12, 18 и 30. Найдите площадь четвёртого прямоугольника.

12	18
?	30

Ответ: _____.

Не забудьте перенести все ответы в бланк ответов № 1 в соответствии с инструкцией по выполнению работы. Проверьте, чтобы каждый ответ был записан в строке с номером соответствующего задания.





**Система оценивания экзаменационной работы по математике
(базовый уровень)**

Правильное решение каждого из заданий 1–21 оценивается 1 баллом. Задание считается выполненным верно, если ответ записан в той форме, которая указана в инструкции по выполнению задания, и полностью совпадает с эталоном ответа.

Номер задания	Правильный ответ
1	116
2	2143
3	2
4	15
5	0,25
6	145
7	1324
8	14
9	10
10	18
11	200
12	6
13	72
14	3
15	300
16	6
17	4
18	4213
19	75630 или 54630 или 74160 или 51630 или 74130
20	5
21	20