

Единый государственный экзамен
по МАТЕМАТИКЕ

Базовый уровень

Инструкция по выполнению работы

Экзаменационная работа включает в себя 21 задание.

На выполнение работы отводится 3 часа (180 минут).

Ответы к заданиям записываются по приведённым ниже образцам в виде числа или последовательности цифр. Сначала запишите ответы к заданиям в поле ответа в тексте работы, а затем перенесите их в бланк ответов № 1 справа от номера соответствующего задания.

КИМ Ответ: -0,8

0	1	2	3	4	5	6	7	8	9
0	1	2	3	4	5	6	7	8	9

 Бланк

Если ответом является последовательность цифр, как в приведённом ниже примере, то запишите эту последовательность в бланк ответов № 1 без пробелов, запятых и других дополнительных символов.

КИМ Ответ:

А	Б	В	Г
4	3	1	2

0	1	2	3	4	5	6	7	8	9
9	4	3	1	2					

 Бланк

Все бланки ЕГЭ заполняются яркими чёрными чернилами. Допускается использование гелевой или капиллярной ручки.

При выполнении заданий можно пользоваться черновиком. **Записи в черновике, а также в тексте контрольных измерительных материалов не учитываются при оценивании работы.**

Баллы, полученные Вами за выполненные задания, суммируются. Постарайтесь выполнить как можно больше заданий и набрать наибольшее количество баллов.

После завершения работы проверьте, что ответ на каждое задание в бланках ответов №1 был записан под правильным номером.

Желаем успеха!

Справочные материалы

Алгебра

Таблица квадратов целых чисел от 0 до 99

Десятки	Единицы									
	0	1	2	3	4	5	6	7	8	9
0	0	1	4	9	16	25	36	49	64	81
1	100	121	144	169	196	225	256	289	324	361
2	400	441	484	529	576	625	676	729	784	841
3	900	961	1024	1089	1156	1225	1296	1369	1444	1521
4	1600	1681	1764	1849	1936	2025	2116	2209	2304	2401
5	2500	2601	2704	2809	2916	3025	3136	3249	3364	3481
6	3600	3721	3844	3969	4096	4225	4356	4489	4624	4761
7	4900	5041	5184	5329	5476	5625	5776	5929	6084	6241
8	6400	6561	6724	6889	7056	7225	7396	7569	7744	7921
9	8100	8281	8464	8649	8836	9025	9216	9409	9604	9801

Свойства арифметического квадратного корня

$$\sqrt{ab} = \sqrt{a} \cdot \sqrt{b} \text{ при } a \geq 0, b \geq 0 \quad \sqrt{\frac{a}{b}} = \frac{\sqrt{a}}{\sqrt{b}} \text{ при } a \geq 0, b > 0$$

Корни квадратного уравнения $ax^2 + bx + c = 0, a \neq 0$

$$x_1 = \frac{-b - \sqrt{b^2 - 4ac}}{2a}, \quad x_2 = \frac{-b + \sqrt{b^2 - 4ac}}{2a} \text{ при } b^2 - 4ac > 0$$

$$x = -\frac{b}{2a} \text{ при } b^2 - 4ac = 0$$

Формулы сокращенного умножения

$$(a + b)^2 = a^2 + 2ab + b^2$$

$$(a - b)^2 = a^2 - 2ab + b^2$$

$$a^2 - b^2 = (a + b)(a - b)$$





Степень и логарифм

Свойства степени при $a > 0, b > 0$

$$a^{-n} = \frac{1}{a^n}$$

$$a^n \cdot a^m = a^{n+m}$$

$$\frac{a^n}{a^m} = a^{n-m}$$

$$(a^n)^m = a^{nm}$$

$$(ab)^n = a^n \cdot b^n$$

$$\left(\frac{a}{b}\right)^n = \frac{a^n}{b^n}$$

Свойства логарифма при $a > 0, a \neq 1, b > 0, x > 0, y > 0$

$$a^{\log_a b} = b$$

$$\log_a a = 1$$

$$\log_a 1 = 0$$

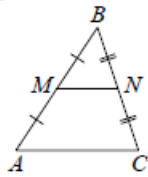
$$\log_a (xy) = \log_a x + \log_a y$$

$$\log_a \left(\frac{x}{y}\right) = \log_a x - \log_a y$$

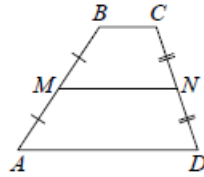
$$\log_a b^k = k \log_a b$$

Геометрия

Средняя линия треугольника и трапеции

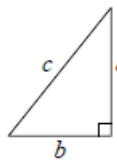


MN — ср. лин.
 $MN \parallel AC$
 $MN = \frac{AC}{2}$



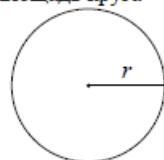
$BC \parallel AD$
 MN — ср. лин.
 $MN \parallel AD$
 $MN = \frac{BC + AD}{2}$

Теорема Пифагора



$$a^2 + b^2 = c^2$$

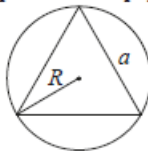
Длина окружности
Площадь круга



$$C = 2\pi r$$

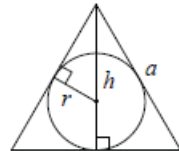
$$S = \pi r^2$$

Правильный треугольник



$$R = \frac{a\sqrt{3}}{3}$$

$$S = \frac{a^2\sqrt{3}}{4}$$

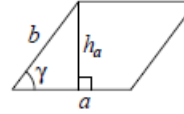


$$r = \frac{a\sqrt{3}}{6}$$

$$h = \frac{a\sqrt{3}}{2}$$

Площади фигур

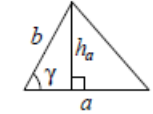
Параллелограмм



$$S = ah_a$$

$$S = ab \sin \gamma$$

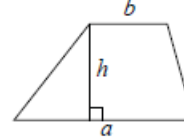
Треугольник



$$S = \frac{1}{2} ah_a$$

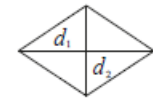
$$S = \frac{1}{2} ab \sin \gamma$$

Трапеция



$$S = \frac{a+b}{2} \cdot h$$

Ромб

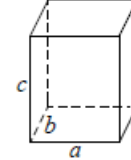


d_1, d_2 — диагонали

$$S = \frac{1}{2} d_1 d_2$$

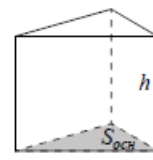
Площади поверхностей и объёмы тел

Прямоугольный параллелепипед



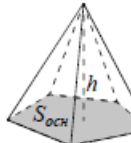
$$V = abc$$

Прямая призма



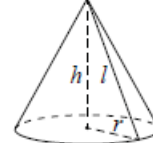
$$V = S_{осн} h$$

Пирамида



$$V = \frac{1}{3} S_{осн} h$$

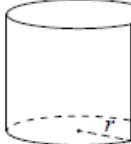
Конус



$$V = \frac{1}{3} \pi r^2 h$$

$$S_{бок} = \pi r l$$

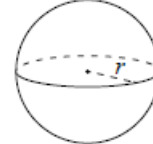
Цилиндр



$$V = \pi r^2 h$$

$$S_{бок} = 2\pi r h$$

Шар

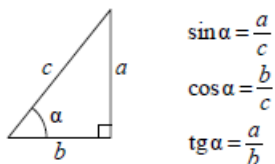


$$V = \frac{4}{3} \pi r^3$$

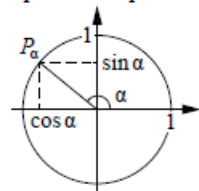
$$S = 4\pi r^2$$

Тригонометрические функции

Прямоугольный треугольник



Тригонометрическая окружность



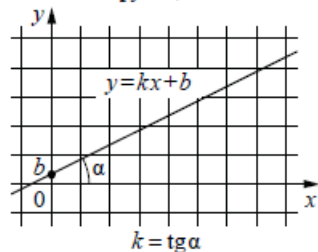
Основное тригонометрическое тождество: $\sin^2 \alpha + \cos^2 \alpha = 1$

Некоторые значения тригонометрических функций

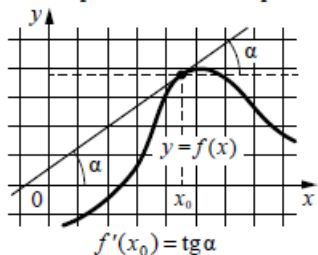
α	радианы	0	$\frac{\pi}{6}$	$\frac{\pi}{4}$	$\frac{\pi}{3}$	$\frac{\pi}{2}$	π	$\frac{3\pi}{2}$	2π
	градусы	0°	30°	45°	60°	90°	180°	270°	360°
$\sin \alpha$		0	$\frac{1}{2}$	$\frac{\sqrt{2}}{2}$	$\frac{\sqrt{3}}{2}$	1	0	-1	0
$\cos \alpha$		1	$\frac{\sqrt{3}}{2}$	$\frac{\sqrt{2}}{2}$	$\frac{1}{2}$	0	-1	0	1
$\operatorname{tg} \alpha$		0	$\frac{\sqrt{3}}{3}$	1	$\sqrt{3}$	—	0	—	0

Функции

Линейная функция



Геометрический смысл производной



Ответом к каждому заданию является конечная десятичная дробь, или целое число, или последовательность цифр. Ответ сначала запишите в поле ответа в тексте работы, а затем перенесите в БЛАНК ОТВЕТОВ № 1 справа от номера соответствующего задания. Каждую цифру, знак «минус» и запятую пишите в отдельной клеточке в соответствии с приведёнными в бланке образцами. Единицы измерений писать не нужно.

1 В пачке 250 листов бумаги формата А4. За неделю в офисе расходуется 700 листов. Какого наименьшего количества пачек бумаги хватит на 8 недель?
 Ответ: _____.

2 Установите соответствие между величинами и их возможными значениями: к каждому элементу первого столбца подберите соответствующий элемент из второго столбца.

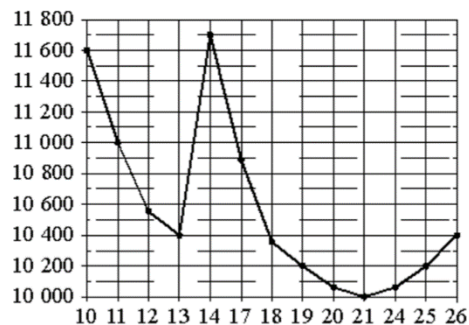
<u>ВЕЛИЧИНЫ</u>	<u>ЗНАЧЕНИЯ</u>
А) масса футбольного мяча	1) 18 кг
Б) масса дождевой капли	2) 2,8 т
В) масса взрослого бегемота	3) 20 мг
Г) масса стиральной машины	4) 750 г

В таблице под каждой буквой, соответствующей величине, укажите номер её возможного значения.

Ответ:

А	Б	В	Г

- 3** На рисунке жирными точками показана цена никеля на момент закрытия биржевых торгов во все рабочие дни с 10 по 26 ноября 2008 года. По горизонтали указаны числа месяца, по вертикали – цена тонны никеля в долларах США. Для наглядности жирные точки на рисунке соединены линиями. Определите по рисунку, какого числа цена никеля на момент закрытия торгов впервые за данный период приняла значение 10 200 долларов США за тонну.



Ответ: _____.

- 4** Закон Гука можно записать в виде $F = kx$, где F – сила (в ньютонах), с которой растягивают пружину, x – абсолютное удлинение пружины (в метрах), а k – коэффициент упругости. Пользуясь этой формулой, найдите x (в метрах), если $F = 51$ Н и $k = 3$ Н/м.

Ответ: _____.

- 5** Вероятность того, что новая шариковая ручка пишет плохо или вовсе не пишет, равна 0,21. Покупатель, не глядя берёт одну шариковую ручку из коробки. Найдите вероятность того, что эта ручка пишет хорошо.

Ответ: _____.

- 6** Для группы иностранных гостей требуется купить 13 путеводителей. Нужные путеводители нашлись в трёх интернет-магазинах. Цена путеводителя и условия доставки всей покупки приведены в таблице.

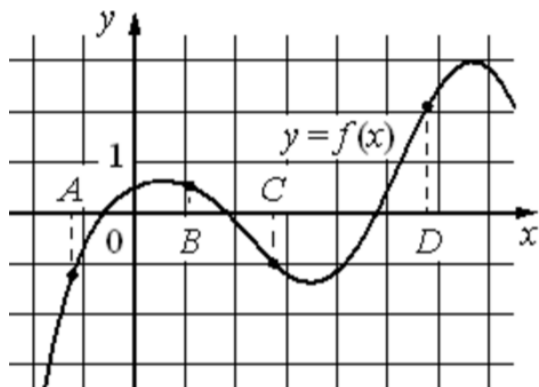
Интернет-магазин	Цена путеводителя (руб. за шт.)	Стоимость доставки (руб.)	Дополнительные условия
А	290	200	Нет
Б	260	400	Доставка бесплатная, если сумма заказа превышает 3800 руб.
В	300	200	Доставка бесплатная, если сумма заказа превышает 3400 руб.

Во сколько рублей обойдётся наиболее дешёвый вариант покупки с доставкой?

Ответ: _____.



7 На рисунке изображён график функции $y = f(x)$ и отмечены точки A, B, C и D на оси Ox . Пользуясь графиком, поставьте в соответствие каждой точке характеристики функции и её производной.



ТОЧКИ

ХАРАКТЕРИСТИКИ ФУНКЦИИ И ПРОИЗВОДНОЙ

- A 1) значение функции в точке положительно, а значение производной функции в точке отрицательно
- B 2) значение функции в точке отрицательно, и значение производной функции в точке отрицательно
- C 3) значение функции в точке положительно, а значение производной функции в точке положительно
- D 4) значение функции в точке отрицательно, и значение производной функции в точке положительно

В таблице под каждой буквой укажите соответствующий номер.

Ответ:

A	B	C	D

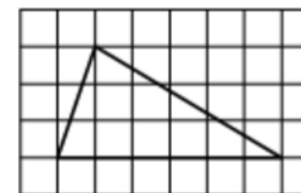
8 Когда какая-нибудь кошка идёт по забору, пёс Шарик, живущий в будке возле дома, обязательно лает. Выберите утверждения, которые верны при приведённом условии.

- 1) Если Шарик не лает, значит, по забору идёт кошка.
- 2) Если Шарик молчит, значит, кошка по забору не идёт.
- 3) Если по забору идёт чёрная кошка, Шарик не лает.
- 4) Если по забору пойдёт белая кошка, Шарик будет лаять.

В ответе запишите номера выбранных утверждений без пробелов, запятых и других дополнительных символов.

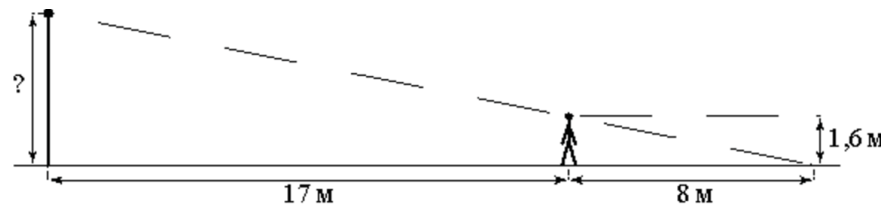
Ответ: _____.

9 На клетчатой бумаге с размером клетки 1×1 изображён треугольник. Найдите его площадь.



Ответ: _____.

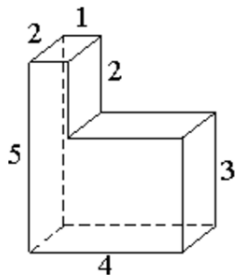
10 Человек, рост которого равен 1,6 м, стоит на расстоянии 17 м от уличного фонаря. При этом длина тени человека равна 8 м. Определите высоту фонаря (в метрах).



Ответ: _____.



- 11** Деталь имеет форму изображённого на рисунке многогранника (все двугранные углы прямые). Числа на рисунке обозначают длины рёбер в сантиметрах. Найдите объём этой детали. Ответ дайте в кубических сантиметрах.



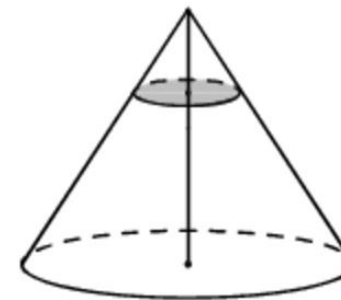
Ответ: _____.

- 12** Основания равнобедренной трапеции равны 10 и 24, боковая сторона равна 25. Найдите высоту трапеции.



Ответ: _____.

- 13** Через точку, делящую высоту конуса в отношении 1:4, считая от вершины, проведена плоскость, параллельная основанию. Найдите объём этого конуса, если объём конуса, отсекаемого от данного конуса проведённой плоскостью, равен 8.



Ответ: _____.

- 14** Найдите значение выражения

$$4,1 \cdot 7,7 + 0,86.$$

Ответ: _____.

- 15** Держатели дисконтной карты книжного магазина получают при покупке скидку 10%. Книга стоит 230 рублей. Сколько рублей заплатит держатель дисконтной карты за эту книгу?

Ответ: _____.

- 16** Найдите значение выражения

$$\frac{3^{-13}}{(3^5)^{-3}}.$$

Ответ: _____.



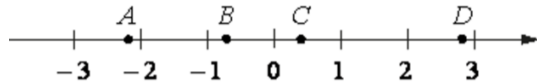
17 Решите уравнение

$$x^2 = 9.$$

Если уравнение имеет более одного корня, в ответе укажите меньший из них.

Ответ: _____.

18 На координатной прямой отмечены точки A, B, C и D .



Число m равно $\sqrt{2}$.

Каждой точке соответствует одно из чисел в правом столбце. Установите соответствие между указанными точками и числами.

ТОЧКИ

A
 B
 C
 D

ЧИСЛА

1) $2m - 5$
2) m^3
3) $m - 1$
4) $-\frac{1}{m}$

Впишите в приведённую в ответе таблицу под каждой буквой соответствующий числу номер.

Ответ:

A	B	C	D

19 Найдите трёхзначное натуральное число, большее 800, которое делится на каждую свою цифру и все цифры которого различны и не равны нулю. В ответе укажите какое-нибудь одно такое число.

Ответ: _____.

20 Поезд, двигаясь равномерно со скоростью 70 км/ч, проезжает мимо лесополосы, длина которой равна 1000 метров, за 1 минуту 48 секунд. Найдите длину поезда в метрах.

Ответ: _____.

21 На поверхности глобуса фломастером проведены 17 параллелей и 24 меридиана. На сколько частей проведённые линии разделили поверхность глобуса? Меридиан – это дуга окружности, соединяющая Северный и Южный полюсы. Параллель – это окружность, лежащая в плоскости, параллельной плоскости экватора.

Ответ: _____.

Не забудьте перенести все ответы в бланк ответов № 1 в соответствии с инструкцией по выполнению работы. Проверьте, чтобы каждый ответ был записан в строке с номером соответствующего задания.





**Система оценивания экзаменационной работы по математике
(базовый уровень)**

Правильное решение каждого из заданий 1–21 оценивается 1 баллом. Задание считается выполненным верно, если ответ записан в той форме, которая указана в инструкции по выполнению задания, и полностью совпадает с эталоном ответа.

Номер задания	Правильный ответ
1	23
2	4321
3	19
4	17
5	0,79
6	3780
7	4123
8	24
9	9
10	5
11	28
12	24
13	1000
14	32,43
15	207
16	9
17	-3
18	1432
19	816 или 824 или 864 или 936
20	1100
21	432