

# Проверочная работа по ГЕОГРАФИИ

## 6 КЛАСС

Дата: \_\_\_\_ \_\_\_\_ 20\_\_ г.

Вариант №: \_\_\_\_

Выполнена: ФИО \_\_\_\_\_

### Инструкция по выполнению работы

На выполнение работы по географии даётся 45 минут. Работа включает в себя 9 заданий.

Ответы на задания запишите в поля ответов в тексте работы. В случае записи неверного ответа зачеркните его и запишите рядом новый.

Для выполнения задания 3 Вам потребуется линейка, а для выполнения задания 6 – карандаш.

При выполнении работы не разрешается пользоваться учебником, рабочими тетрадями, атласом и другим справочным материалом.

При необходимости можно пользоваться черновиком. Записи в черновике проверяться и оцениваться не будут. Для выполнения заданий с использованием карт Вам потребуются линейка и карандаш.

Советуем выполнять задания в том порядке, в котором они даны. В целях экономии времени пропускайте задание, которое не удаётся выполнить сразу, и переходите к следующему. Если после выполнения всей работы у Вас останется время, то Вы сможете вернуться к пропущенным заданиям.

Вариант сгенерирован единой системой универсального образования на [esuo.ru](http://esuo.ru) и соответствует последним изменениям ВПР на **текущий учебный год**.

*Желаем успеха!*

---

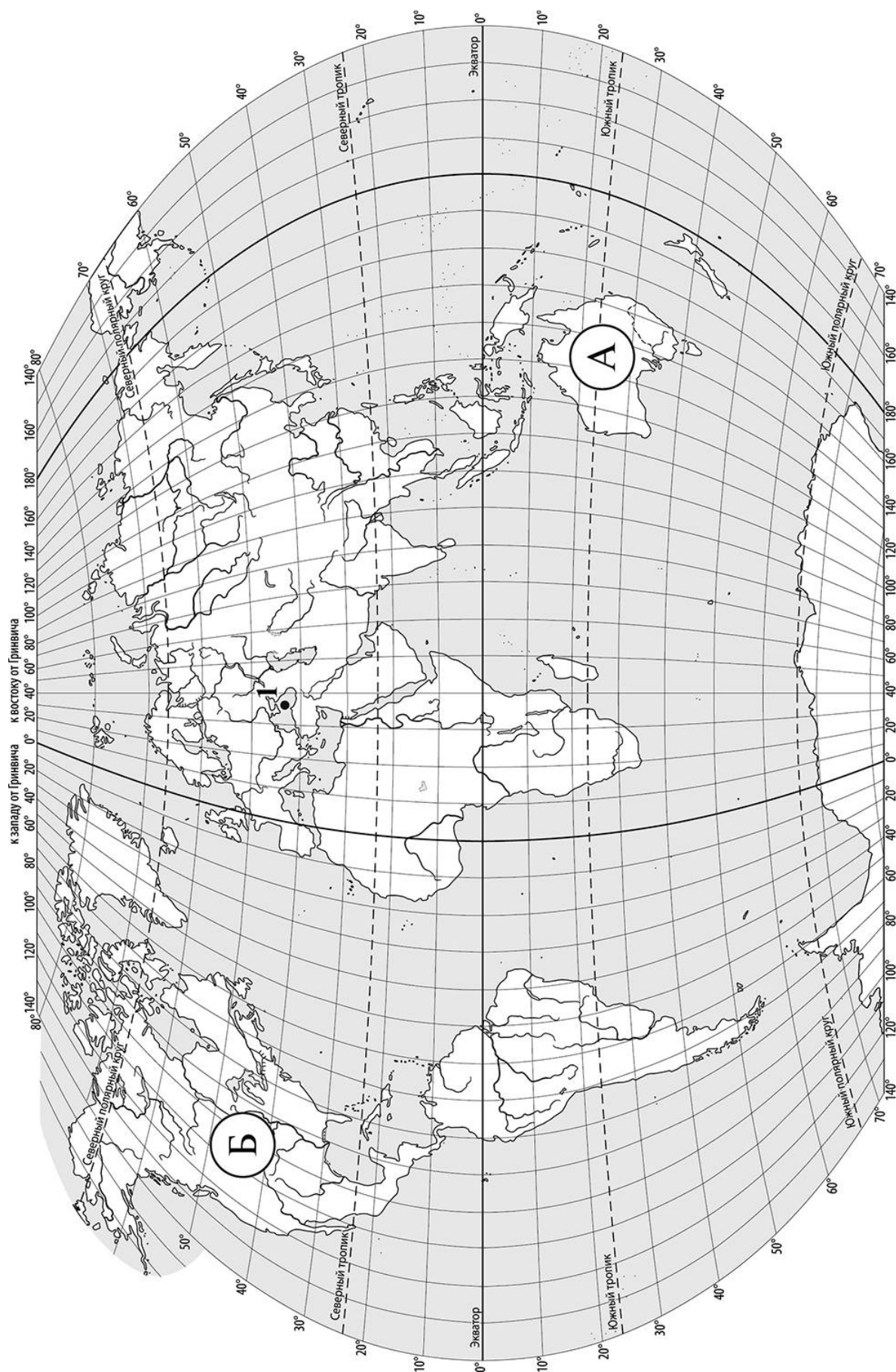
*Заполняется учителем, экспертом или техническим специалистом*

**Обратите внимание:** в случае, если какие-либо задания не могли быть выполнены целым классом по причинам, связанным с отсутствием соответствующей темы в реализуемой школой образовательной программе, в форме сбора результатов ВПР всем обучающимся класса за данное задание вместо балла выставляется значение «Тема не пройдена». В соответствующие ячейки таблицы заполняется н/п.

*Таблица для внесения баллов участника*

Номер задания	1.1	1.2	2.1	2.2	3.1	3.2	3.3	4.1	4.2	4.3	5.1	5.2	6.1	6.2	6.3	7
Баллы																

Номер задания	8	9.1	9.2	9.3	Сумма баллов	Отметка за работу
Баллы						



**Задания 1 и 2 выполняются с использованием карты мира, приведённой на странице 2.**

Рассмотрите карту мира и выполните задания.

1.1. Запишите названия материков, обозначенных на карте буквами А и Б.

Название материка А: \_\_\_\_\_

Название материка Б: \_\_\_\_\_

1.2. С каким из названных Вами материков связаны открытия путешественников и исследователей, изображённых на портретах? Укажите в ответе букву, которой обозначен этот материк на карте.



*Джеймс Кук*



*Абель Тасман*

Ответ. \_\_\_\_\_

Подпишите на карте океаны, омывающие берега указанного Вами материка.

2. Рассмотрите карту мира и выполните задания.

2.1. Найдите на карте точку 1 с координатами  $43^{\circ}$  с. ш.  $36^{\circ}$  в. д.

Поставьте на карте точку 2 с координатами  $23^{\circ}$  с. ш.  $36^{\circ}$  в. д.

В каком направлении от точки 1 расположена точка 2?

- 1) северном
- 2) южном
- 3) западном
- 4) восточном

Ответ. \_\_\_\_\_

2.2. Точка 1 расположена на территории крупного географического объекта.

Прочитайте текст, рассмотрите фотографию и укажите название этого географического объекта.

Море на юге России, принадлежащее бассейну Атлантического океана. Это море глубоко вдаётся в сушу и соединяется со Средиземным морем через пролив Босфор, Мраморное море и пролив Дарданеллы. В него впадают крупнейшие реки Европы: Дунай и Днепр. Единственный крупный полуостров – Крымский. К морю выходит семь стран. Здесь расположены крупные порты: Новороссийск, Севастополь, Одесса, Батуми. Благоприятный климат, разнообразие и красота природы побережья этого моря, где соседствуют море и горы, обеспечили развитие здесь курортов. Крупнейшие из них – Сочи, Ялта, Золотые Пески. Символом этого моря является дельфин. Запишите название этого географического объекта.

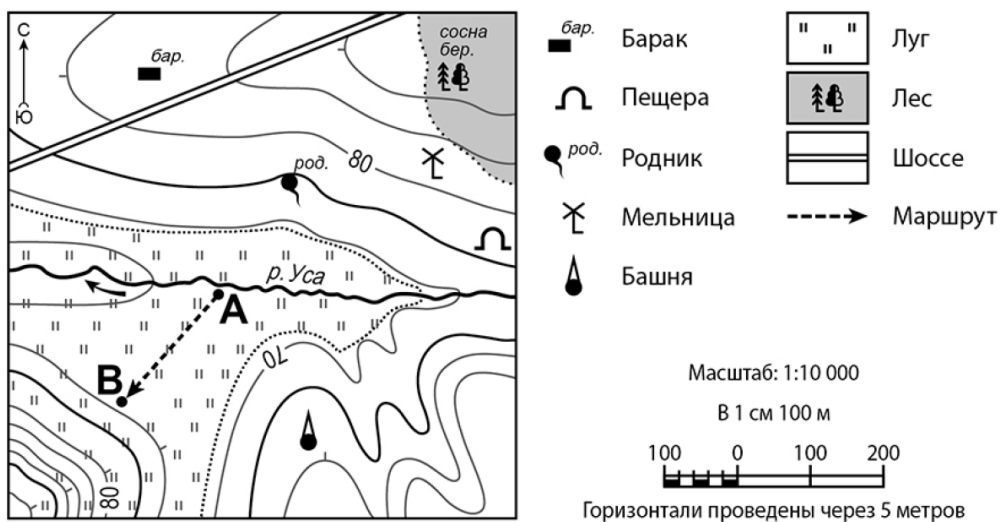


Ответ. \_\_\_\_\_

**Задание 3 выполняется с использованием приведённого ниже фрагмента топографической карты.**

**3**

Рассмотрите фрагмент топографической карты и выполните задания.



3.1. На каком берегу реки Усы находится пещера? Подчеркните верный ответ.

Ответ. **На правом / на левом**

В каком направлении от пещеры расположена башня?

Ответ. \_\_\_\_\_

3.2. Определите протяжённость маршрута А–В на местности с помощью масштаба карты. Для выполнения задания используйте линейку. Расстояние на карте измеряйте по центрам точек.

Ответ. \_\_\_\_\_



3.3. Какой из изображённых на фотографиях объектов может быть размещён на участке, по которому проходит маршрут А–В? Укажите в ответе букву, которой обозначен этот объект.



А – лыжный спуск



Б – поле для гольфа



В – канатная дорога

Ответ. \_\_\_\_\_

Какая особенность участка, по которому проходит маршрут А–В, определила Ваш выбор?

- 1) расположение на берегу реки
- 2) расположение на склоне холма значительной крутизны
- 3) удалённость от лесных массивов
- 4) ровный открытый участок с луговой растительностью


Ответ. \_\_\_\_\_

4.1. Разница во времени между городами Красноярском и Брянском составляет —4 часа, так как Брянск расположен западнее Красноярска, и день там наступает позже. На рисунках представлены показания часов в этих городах в тот момент, когда в Красноярске 9 часов вечера. Запишите под каждым рисунком, как отображается то же самое время на электронных часах в этих городах.

КРАСНОЯРСК


 : 

БРЯНСК


 : 

4.2. Константин живёт в Красноярске. Что он делает в указанное Вами время? Используйте для ответа приведённый режим дня школьника.

Ответ. \_\_\_\_\_

Что в это же время делает его сверстник Андрей, который живёт в Брянске, если он соблюдает тот же режим дня, что и Константин?

Ответ. \_\_\_\_\_

4.3. Чем обусловлена разница во времени в разных частях Земли?

- 1) вращением Земли вокруг своей оси
- 2) движением Луны вокруг Земли
- 3) продолжительностью светового дня
- 4) продолжительностью сезонов года

Ответ. \_\_\_\_

#### РЕЖИМ ДНЯ ШКОЛЬНИКА

<b>7.05</b>	<i>Подъём</i>
<b>7.10 – 7.25</b>	<i>Утренняя зарядка</i>
<b>7.30 – 7.40</b>	<i>Гигиенические процедуры</i>
<b>7.45 – 8.05</b>	<i>Завтрак</i>
<b>8.10 – 8.25</b>	<i>Дорога в школу</i>
<b>8.30 – 13.15</b>	<i>Уроки в школе</i>
<b>13.20 – 13.35</b>	<i>Дорога домой</i>
<b>13.45 – 14.15</b>	<i>Обед</i>
<b>14.30 – 16.15</b>	<i>Занятия в кружке/секции</i>
<b>16.30 – 16.40</b>	<i>Полдник</i>
<b>16.45 – 18.15</b>	<i>Выполнение домашних заданий</i>
<b>18.30 – 19.30</b>	<i>Прогулка</i>
<b>19.45 – 20.15</b>	<i>Ужин</i>
<b>20.20 – 21.50</b>	<i>Свободное время (просмотр телепередач, чтение книг, настольные игры)</i>
<b>21.55 – 22.10</b>	<i>Подготовка ко сну</i>
<b>22.15 – 7.00</b>	<i>Ночной сон</i>

5.1. Установите соответствие между природными зонами и их географическими особенностями.

**Природные зоны:**

А – тайга

Б – тундра

**Географические особенности:**

- 1) местообитание пушных зверей: соболя, горностая, белки, куницы
- 2) произрастание ели, пихты, сосны
- 3) произрастание мхов, лишайников, мелких кустарничков
- 4) местообитание северного оленя, лемминга, песца, полярной совы
- 5) сильные ветры в течение всего года
- 6) преобладание подзолистых почв

Запишите в таблицу выбранные цифры под буквами, которыми обозначены природные зоны.

Ответ.

Природная зона	А	Б
Географические особенности		

5.2. В какой из указанных природных зон могли быть сделаны представленные фотографии?

Запишите **название** природной зоны.



Ответ. \_\_\_\_\_



6

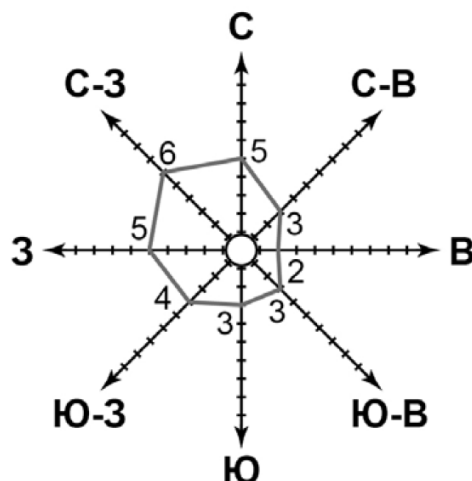
6.1. На метеорологической станции города N в октябре были проведены наблюдения за направлением ветра. По результатам наблюдений метеорологи построили розу ветров. Рассмотрите розу ветров и ответьте на вопросы.

Какой ветер чаще всего дул в октябре?

Ответ: \_\_\_\_\_

В каком направлении дует этот ветер?

Ответ: \_\_\_\_\_



6.2. Выберите рисунок, на котором знаками отображена погода в тот день, когда дул западный ветер. Запишите в ответе букву, которой обозначен этот рисунок.

А				+9 °C	72%
Б				+5 °C	75%
В				+11 °C	67%

Ответ:

6.3. Оксана в течение дня наблюдала за погодой и описала её в дневнике наблюдений. Прочитайте это описание и отобразите его с помощью условных обозначений так, как на представленных выше рисунках.

Сегодня была переменная облачность. Дождь начинался несколько раз, но быстро заканчивался. Дул западный ветер. Температура воздуха была 15 градусов тепла, а влажность воздуха составила 75 процентов.

Ответ.

--	--	--	--	--

УСЛОВНЫЕ ОБОЗНАЧЕНИЯ		
Облачность	Осадки	Направление ветра
Другие погодные явления		

7

Прочитайте текст и выполните задание.

- (1) Рельеф – это совокупность неровностей земной поверхности.
- (2) К крупным формам рельефа на суше относятся равнины и горы.
- (3) В зависимости от преобладающих абсолютных высот горы подразделяют на низкие, средневысотные и высокие.
- (4) По возрасту горы подразделяются на старые, например, Урал, и молодые – Кавказ.
- (5) Старые горы, как правило, отличаются небольшими высотами и сглаженными вершинами.
- (6) По происхождению выделяют вулканические горы, которые являются конусами действующих или потухших вулканов, например, Ключевская Сопка, и тектонические горы, образованные в результате движений земной коры, например, Алтай.

По каким предложениям можно сделать вывод о классификации гор? Запишите номера предложений.

Ответ. \_\_\_\_\_

8

Рассмотрите фотографию с изображением опасного явления природы. Запишите его название.

Ответ. \_\_\_\_\_

\_\_\_\_\_

В какой части географической оболочки Земли происходит это явление?

- 1) атмосфере
- 2) гидросфере
- 3) литосфере
- 4) биосфере

Ответ. \_\_\_\_\_



Используя приведённую ниже таблицу, выполните задания.

**Численность и состав населения, 2016 г.**

№	Страна	Численность населения, млн человек	Состав населения, %	
			городское	сельское
1	США	325	81	19
2	Турция	81	74	26
3	Бразилия	208	86	14
4	Индия	1353	33	67

9.1. Расположите страны в порядке **уменьшения** численности населения, начиная со страны с самой большой численностью. Запишите в ответе последовательность **порядковых номеров** этих стран.

Ответ. \_\_\_\_\_

9.2. В какой стране преобладает сельское население? Запишите в ответе **название** страны.

Ответ. \_\_\_\_\_

В каких двух странах доля городского населения более 80%? Запишите в ответе **названия** стран.

Ответ. \_\_\_\_\_

9.3. В какой стране, из указанных в таблице, сделана представленная фотография? Запишите в ответе **название** страны.

Ответ. \_\_\_\_\_

В какой части света расположена указанная Вами страна?

- 1) Азия
- 2) Европа
- 3) Америка
- 4) Африка

Ответ. \_\_\_\_\_

