

Проверочная работа
по предмету «ОКРУЖАЮЩИЙ МИР»

4 КЛАСС

Дата: ____ ____ 20__ г.

Вариант №: ____

Выполнена: ФИО _____

Инструкция по выполнению работы

На выполнение проверочной работы по предмету «Окружающий мир» отводится один урок (не более 45 минут). Работа включает в себя 10 заданий.

Ответы на задания запиши в поля ответов в тексте работы. Если ты хочешь изменить ответ, то зачеркни его и запиши рядом новый.

При выполнении работы не разрешается пользоваться учебниками, рабочими тетрадями, справочным материалом.

При необходимости можно пользоваться черновиком. Записи в черновике проверяться и оцениваться не будут.

Советуем выполнять задания в том порядке, в котором они даны. Для экономии времени пропускай задание, которое не удаётся выполнить сразу, и переходи к следующему. Постарайся выполнить как можно больше заданий.

Вариант сгенерирован единой системой универсального образования на esuo.ru и соответствует последним изменениям ВПР на **текущий учебный год**.

Желаем успеха!

Таблица для внесения баллов участника


Номер задания	1	2	3.1	3.2	3.3	4	5	6.1	6.2	6.3	7.1	7.2	8 K1	8 K2	8 K3	9 K1	9 K2	9 K3
Баллы																		

10.1	10.2 K1	10.2 K2	10.2 K3	Сумма баллов	Отметка за работу

*** Обратите внимание:** в случае, если какие-либо задания не могли быть выполнены целым классом по причинам, связанным с особенностями организации учебного процесса, в форме сбора результатов ВПР всем обучающимся класса за данные задания вместо баллов выставляется значение «Тема не пройдена». В соответствующие ячейки таблицы заполняется н/п.

























1

Рассмотри рисунок, на котором изображена стоянка туристов. Лавка изготовлена из дерева. Она отмечена на рисунке стрелкой с соответствующей надписью. Покажи на рисунке стрелкой любой предмет (любую деталь) из резины и любой предмет (любую деталь) из ткани. Подпиши название соответствующего материала рядом с каждой стрелкой.



2

На интернет-сайтах погоды можно встретить подобные таблицы. Изучи прогноз погоды на трое суток по приведённой ниже таблице.

	Среда, 28 июля				Четверг, 29 июля				Пятница, 30 июля			
	Ночь	Утро	День	Вечер	Ночь	Утро	День	Вечер	Ночь	Утро	День	Вечер
Облачность и атмосферные осадки												
Температура воздуха, °С	15	18	24	19	16	19	27	20	18	22	27	21
Направление ветра												
	Ю	ЮЗ	Ю	ЮЗ	СЗ	З	З	СЗ	СЗ	СЗ	З	ЮЗ
Влажность воздуха, %	87	84	79	80	79	77	70	74	73	72	69	71

Выбери верные утверждения об ожидаемой погоде на эти трое суток и запиши в строку ответа их номера.

- 1) В среду и в четверг в течение суток будет облачная погода.
- 2) В среду утром воздух прогреется до 18 °С.
- 3) В пятницу утром будет дуть западный ветер.
- 4) В четверг днём влажность воздуха составит 79%.

Ответ: _____

3

Рассмотри карту мира. На ней буквами А и Б отмечены два материка.



3.1. Запиши название каждого материка в отведённое для этого поле.

Название материка А: _____

Название материка Б : _____

3.2. На следующей странице представлены фотографии сайгака, полярной совы, песца и тушканчика. Запиши название каждого из этих животных рядом с номером фотографии, на которой оно изображено.

1) _____ 2) _____

3) _____ 4) _____

3.3. Какие из этих животных обитают в естественной среде (не в зоопарке) на материке А, а какие – на материке Б? Запиши в таблицу номера фотографий с изображением этих животных.



1)



2)



3)



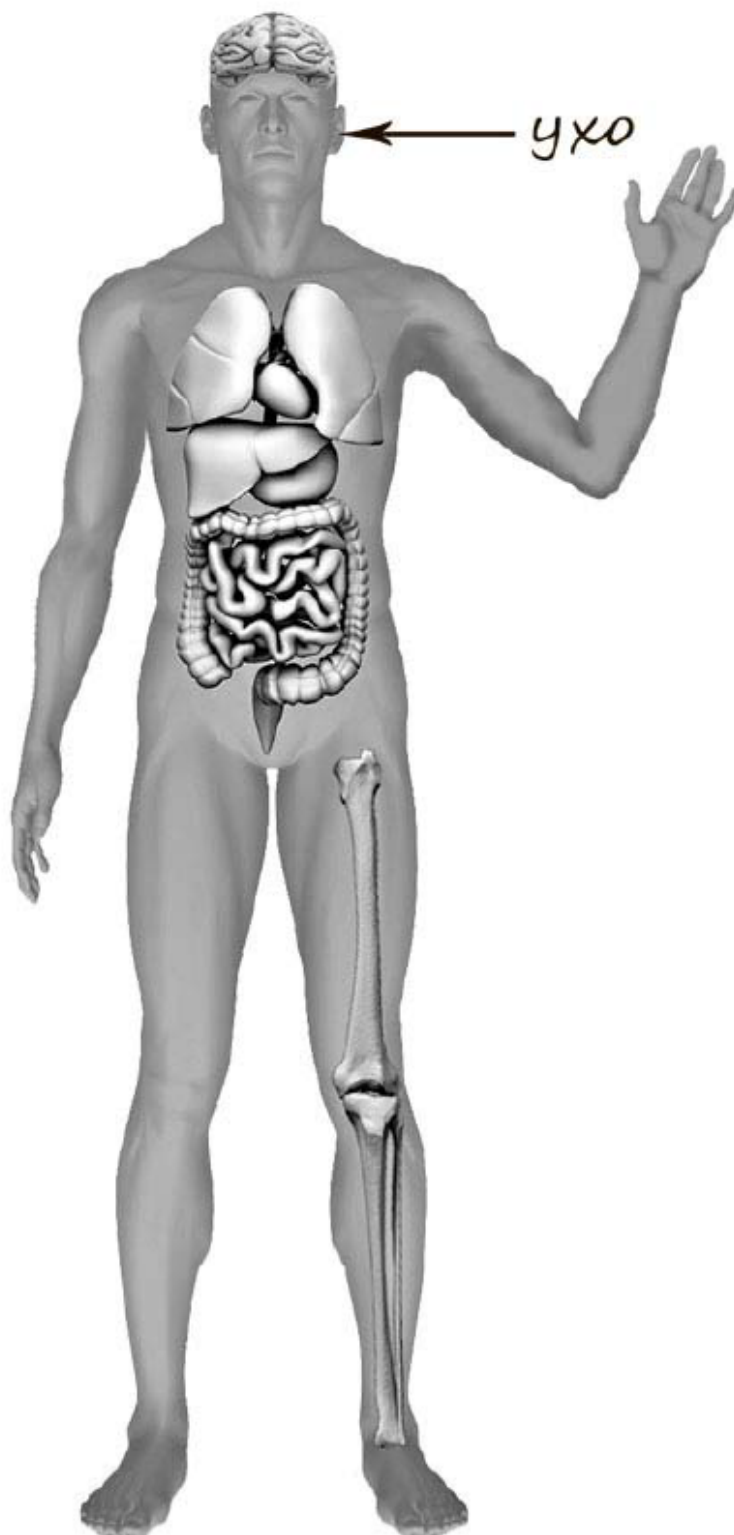
4)

Ответ:

Природная зона	А	Б
Животные		

4

Рассмотри изображение человека. Покажи стрелками и подпиши *голень*, *кисть* и *желудок* человека так, как показано на примере.



5

Составь два правила сохранения здоровья и правильного поведения человека из приведённых частей фраз: для этого к каждой позиции первого столбца подбери соответствующую позицию из второго столбца.

Начало фразы

- А) Если во время прогулки в лесу ты заметил дым или огонь,
Б) Чтобы избежать удара молнии на открытом пространстве,

Продолжение фразы

- 1) присядь на корточки, наклонив голову и не касаясь руками земли.
2) растяни солнцезащитный тент или раскрой зонт.
3) не подходи сам к очагу возгорания, а сообщи взрослому и вызови патруль МЧС.

Запиши в таблицу выбранные цифры под соответствующими буквами.

Ответ:

Начало фразы	А	Б
Продолжение фразы		

При засушивании фруктов влага из них испаряется, и фрукты теряют вес. Артём решил провести опыт с засушиванием яблок. Он взял несколько яблок, нарезал их одинаковыми по толщине кусочками и разделил на две одинаковые по весу части. Одну часть нарезанных яблок Артём положил на первый поднос, а другую – на второй. Подносы он поставил в комнате рядом друг с другом, первый из подносов накрыл марлей, а второй оставил открытым. Кусочки яблок на обоих подносах Артём регулярно переворачивал.

6.1. Сравни условия засушивания яблок на первом и втором подносах в описанном опыте. Подчеркни в каждой строке одно из выделенных слов.

Исходный вес яблок на подносах: **одинаковый** / **различный**

Толщина кусочков яблок на подносах: **одинаковая** / **различная**

Условия, в которых находятся яблоки на подносах: **одинаковые** / **различные**

6.2. Какие измерения и сравнения надо проводить Артёму, чтобы выяснить, влияет ли укрывание марлей на скорость засушивания яблок?

Ответ: _____


6.3. Перед обработкой из яблок иногда вырезают сердцевину. Если бы Артём захотел выяснить, влияет ли предварительное вырезание сердцевины яблок на скорость их засушивания, с помощью какого опыта он мог бы это сделать? Опиши этот опыт.

Ответ: _____

При выполнении заданий 7–10 последовательно отвечай на каждый из представленных вопросов. Ответы записывай чётко и разборчиво, соблюдая нормы речи.

7

Рассмотри знаки, изображённые на рисунках, и ответь на вопросы.



7.1. Какой из этих знаков можно встретить на улице возле школы?

Ответ: ____

Какое правило отражает этот знак?

Ответ: _____

7.2. Какие правила отражают два других знака? Запиши ответы в таблицу

ЗНАК	ПРАВИЛО

8

На фотографиях изображены люди разных профессий за работой. Выбери ОДНУ из фотографий и запиши букву, под которой она приведена. Представитель какой профессии изображён на фотографии? Какую работу выполняют люди этой профессии? Чем работа людей этой профессии полезна обществу?

А)



Б)



В)



Выбранная фотография: _____

Ответ: _____

21 ноября в России отмечается День работника налоговых органов.

2020

Январь							Февраль							Март							Апрель						
ПН	ВТ	СР	ЧТ	ПТ	СБ	ВС	ПН	ВТ	СР	ЧТ	ПТ	СБ	ВС	ПН	ВТ	СР	ЧТ	ПТ	СБ	ВС	ПН	ВТ	СР	ЧТ	ПТ	СБ	ВС
		1	2	3	4	5						1	2							1			1	2	3	4	5
6	7	8	9	10	11	12	3	4	5	6	7	8	9	2	3	4	5	6	7	8	6	7	8	9	10	11	12
13	14	15	16	17	18	19	10	11	12	13	14	15	16	9	10	11	12	13	14	15	13	14	15	16	17	18	19
20	21	22	23	24	25	26	17	18	19	20	21	22	23	16	17	18	19	20	21	22	20	21	22	23	24	25	26
27	28	29	30	31			24	25	26	27	28	29		23	24	25	26	27	28	29	27	28	29	30			
														30	31												
Май							Июнь							Июль							Август						
ПН	ВТ	СР	ЧТ	ПТ	СБ	ВС	ПН	ВТ	СР	ЧТ	ПТ	СБ	ВС	ПН	ВТ	СР	ЧТ	ПТ	СБ	ВС	ПН	ВТ	СР	ЧТ	ПТ	СБ	ВС
				1	2	3	1	2	3	4	5	6	7			1	2	3	4	5					1	2	
4	5	6	7	8	9	10	8	9	10	11	12	13	14	6	7	8	9	10	11	12	3	4	5	6	7	8	9
11	12	13	14	15	16	17	15	16	17	18	19	20	21	13	14	15	16	17	18	19	10	11	12	13	14	15	16
18	19	20	21	22	23	24	22	23	24	25	26	27	28	20	21	22	23	24	25	26	17	18	19	20	21	22	23
25	26	27	28	29	30	31	29	30						27	28	29	30	31			24	25	26	27	28	29	30
																					31						
Сентябрь							Октябрь							Ноябрь							Декабрь						
ПН	ВТ	СР	ЧТ	ПТ	СБ	ВС	ПН	ВТ	СР	ЧТ	ПТ	СБ	ВС	ПН	ВТ	СР	ЧТ	ПТ	СБ	ВС	ПН	ВТ	СР	ЧТ	ПТ	СБ	ВС
	1	2	3	4	5	6				1	2	3	4							1		1	2	3	4	5	6
7	8	9	10	11	12	13	5	6	7	8	9	10	11	2	3	4	5	6	7	8	7	8	9	10	11	12	13
14	15	16	17	18	19	20	12	13	14	15	16	17	18	9	10	11	12	13	14	15	14	15	16	17	18	19	20
21	22	23	24	25	26	27	19	20	21	22	23	24	25	16	17	18	19	20	21	22	21	22	23	24	25	26	27
28	29	30					26	27	28	29	30	31		23	24	25	26	27	28	29	28	29	30	31			
														30													

Обведи эту дату в календаре.

Запиши, на какой день недели приходилась эта дата в 2020 году.

Ответ: _____

Граждане обязаны платить налоги. Как ты думаешь, почему для государства важно, чтобы никто не уклонялся от уплаты налогов? (Напиши ответ объёмом до пяти предложений.)

Ответ: _____

10

10.1. Запиши название региона: республики, или области, или края, или автономного округа, в котором ты живёшь.

Ответ: _____

Как называется главный город твоего региона?

Ответ: _____

10.2. Что изображено на гербе твоего региона?

Ответ: _____

Какие звери встречаются в природе твоего региона (укажи не менее трёх зверей)
Опиши одного из этих зверей. Чем питается этот зверь?

Ответ: _____
