

Ответы: ВПР по географии 7 класс

1-3

1.1. Правильный ответ должен содержать следующие элементы:

- 1) указание путешественника: И.Ф. Крузенштерн;
- 2) подпись названия океана на карте: Атлантический океан

1.2. А – остров Исландия

Б – Гвинейский залив

В – экватор

1.3. Правильный ответ должен содержать два элемента:

- 1) координаты точки: 53° с. ш. 160° в. д. (допускается погрешность $\pm 1^{\circ}$);
- 2) название географического объекта: полуостров Камчатка





2.1. Правильный ответ должен содержать три элемента:

- 1) значение параллели: 50° с. ш.;
- 2) протяжённость материка в градусах: 56° (допускается погрешность $\pm 2^{\circ}$);
- 3) протяжённость материка в километрах: 4015 км (допускается соответствующая погрешность в километрах)

2.2. Правильный ответ должен содержать следующие элементы:

- 1) указание формы рельефа: 2;
- 2) абсолютные высоты территории: 500-1000 м

2.3. Правильный ответ должен содержать таблицу с внесёнными в неё значками полезных ископаемых:

Нефть	Калийные соли	Каменный уголь	Бурый уголь
			

3.1.

1 – арктический

2 – тропический

3 – умеренный

3.2. Правильный ответ должен содержать следующие элементы:

- 1) название природной зоны: степь;
- 2) номер климатограммы: 3

3.3. Правильный ответ должен содержать заполненную таблицу:

Средняя температура воздуха, $^{\circ}\text{C}$		Годовая амплитуда температур, $^{\circ}\text{C}$	Годовое количество осадков, мм	Месяц, на который приходится наибольшее количество осадков
в январе	в июле			
-11	+23	34	433	август

При определении температуры воздуха допускается погрешность $\pm 1^{\circ}\text{C}$. Если в ответе на задание 3.2 номер климатограммы не указан / указан неправильно, то результат выполнения данного задания не засчитывается.

4

4.1. извержение вулкана / вулканизм

4.2. 25413

Если за выполнение задания 4.1 выставлено 0 баллов, результат выполнения данного

задания не засчитывается

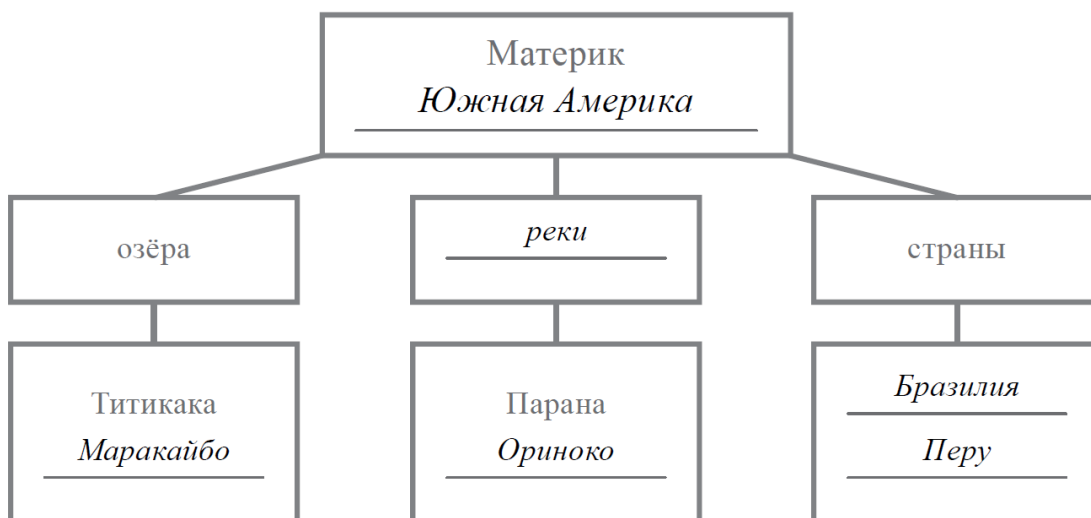
5

5.1.

А – 145 (в любой последовательности)

Б – 236 (в любой последовательности)

5.2. Правильный ответ должен содержать заполненную схему с вписанными в неё названием материка, типами и названиями географических объектов.



6

6.1. Правильный ответ должен содержать выделение на карте двух стран: Египта и Аргентины

6.2.



Время по Гринвичу
12:00 (полдень)



Буэнос-Айрес
20 августа
09:00



Каир

20 августа
14:00

Правильный ответ должен содержать подписи названий двух городов: Буэнос- Айреса (столицы Аргентины) и Каира (столицы Египта)

6.3. 11:30

7

7.1. 2431

7.2. Афганистан

8

8.1. в Мексике

8.2. Правильный ответ должен содержать два элемента:

1) указание рисунка с контуром страны: А;

2) ответ на вопрос: Северная Америка.

Если за выполнение задания 8.1 выставлено 0 баллов, результат выполнения данного задания не засчитывается